




コンパスを使おう①

なまえ


DO4-1

● コンパスを使って、次の円をかきましょう。

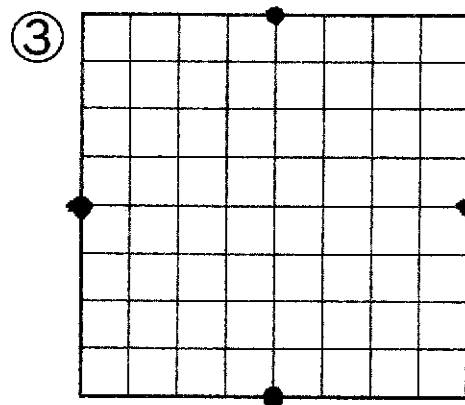
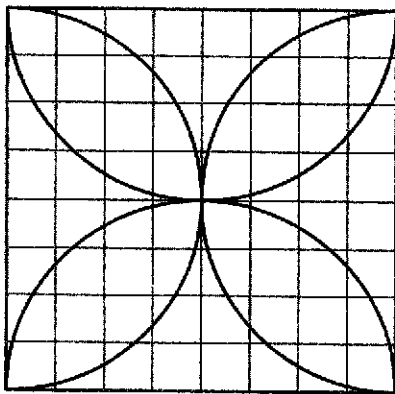
① ^{はんけい}半径が2cmの円



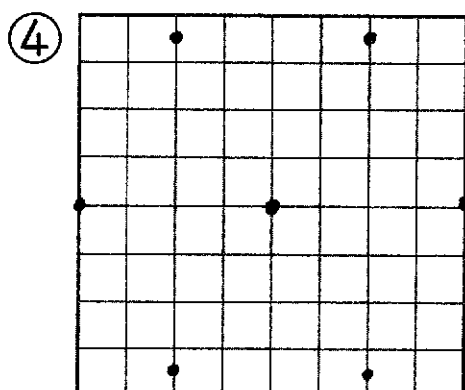
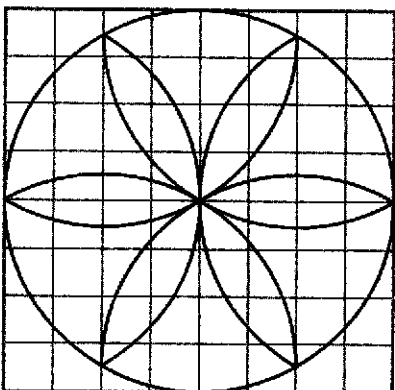
② 直径が6cmの円



● 左のもようと同じもようをかきましょう。



コンパスを4マス分
ひらく。
● (点)のところに
はしをさし、半円を
かく。



①円をかく。
コンパスを4マス分
ひらき、真ん中の点
にはしをさし、円を
かく。
②花びらをかく。
コンパスを4マス分
ひらき、まわりの点から
それぞれ半円をかく。